

پیک  
نوروزی

# آدینه‌ها با گراد

۵


پایه پنجم دبستان

- بودجه بندی محتوایی (سالانه)
- بودجه بندی هفتگی و ماهانه
- جدول ارزشیابی پایانی
- سرگرمی

خلاصه ای از تمام فصل های کتاب

# آدینه‌ها با گراد

پایه پنجم



این هفته با طعم انار

قرآن : صفحه‌ی ۱ الی ۴ درس ۱ جلسه‌ی اول و دوم  
هدیه‌های آسمان : صفحه‌ی ۶ الی ۹ درس ۱ دسته‌گلی از آسمان  
فارسی : مرور کلاس چهارم  
ریاضی : صفحه‌ی ۲ الی ۵ یادآوری عددنویسی و محاسبات عددی  
علوم : مرور کلاس چهارم  
مطالعات اجتماعی : مرور کلاس چهارم

نام و نام خانوادگی :

دبستان :

کلاس :



قرآن

« فَذَكِّرْ بِالْقُرْآنِ »

۱ معنی عبارت قرآنی زیر را بنویسید.

(سوره ی ق، آیه ی ۴۵)

۲ برای هر کدام از موارد خواسته شده ۲ نمونه از درس اول پیدا کرده و بنویسید.

	الف) و او پایه ی همزه (ؤ):
	ب) یا ء زیر الف کوچک (ی):
	پ) یا ء بعد از تنوین فتحه (ی):
	ت) الف بعد از و او آخر (ـ و ا):

۳ کدام مورد به مفهوم نماز در قرآن اشاره شده است؟ آن را با علامت «✓» معلوم کنید.

هُدًى وَ رَحْمَةً لِّلْمُحْسِنِينَ  اِنَّ هٰذَا الْقُرْآنَ يَهْدِي لِلَّتِي هِيَ اَقْوَمُ   
 وَ اللّٰهُ رَتُّوفٌ بِالْعِبَادِ  الَّذِيْنَ يَّقِيْمُوْنَ الصَّلٰةَ وَ يُؤْتُوْنَ الزَّكٰوةَ وَ هُمْ بِالْآخِرَةِ هُمْ يَوْقِنُوْنَ.



خیلی خوب  خوب  قابل قبول  نیاز به تلاش بیشتر

کتابهای آسمان

۱ هر آیه را به موضوع قرآنی مناسب وصل کنید.

- رفتار زیبا
- اندیشه ی نیک
- مهر و محبت
- عبادت
- گفتار زیبا
- وَالْوَالِدَيْنِ اِحْسَانًا
- وَ اَقِمِ الصَّلَاةَ لِدِكْرِي
- وَقَوْلُوا لِلنَّاسِ حُسْنًا
- اجْتَنِبُوا كَثِيرًا مِّنَ الظَّنِّ

۲ ..... کتاب جاودان و هدیه ای از طرف خداست.

۳ با توجه به آیه ی ۱۰ سوره ی حجرات، کدام موضوعات قرآنی معرفی می شود؟



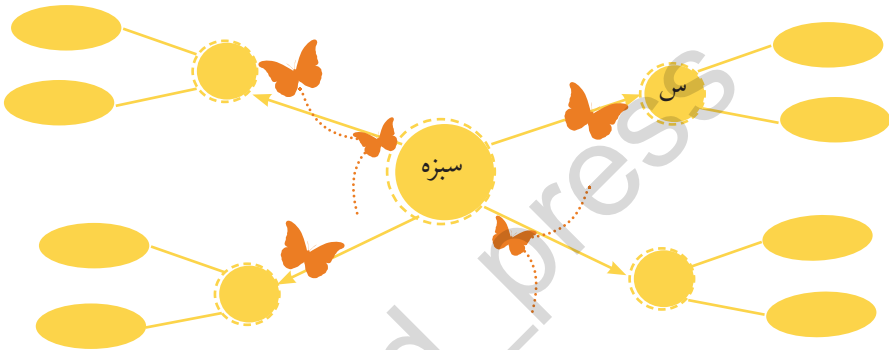
خیلی خوب  خوب  قابل قبول  نیاز به تلاش بیشتر



کلمه های زیر را به ترتیب حروف الفبا مرتب کنید.

لطافت - هوش - بازرگان - عقاب - خطر - عید - نقص

ابتدا حروف کلمه ی نوشته شده را جدا کنید، سپس برای هر حرف دو کلمه بنویسید.

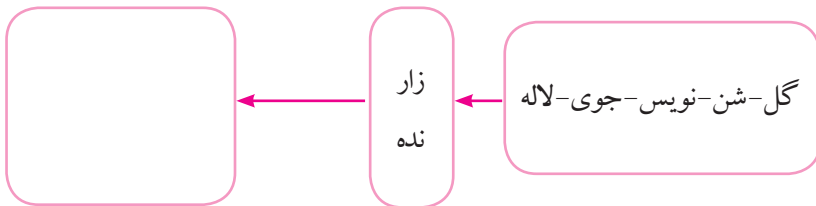


کلمه هایی که در یک گروه قرار دارند را در هر کادر بنویسید.

ناظر - عالم - طالب - علم - مطلوب - منظور - طلب - معلوم - نظر

Three empty rounded rectangular boxes for writing words.

با اضافه کردن اجزای زیر به کلمه ی مناسب، کلمه ی جدید بسازید.



خیلی خوب  خوب  قابل قبول  نیاز به تلاش بیشتر





ریاضی

۱ جدول های ارزش مکانی زیر را پر کنید.

میلیون			هزار			یکی		
صدگان	دهگان	یکی	صدگان	دهگان	یکی	صدگان	دهگان	یکی
					۹	۸	۳	۰

$\times 10$   
 $\times 100$   
 $\times 1000$

میلیون			هزار			یکی		
صدگان	دهگان	یکی	صدگان	دهگان	یکی	صدگان	دهگان	یکی
	۳	۵	۰	۸	۰	۰	۰	۰

$\div 10$   
 $\div 100$   
 $\div 1000$

۲ هر یک از عبارت های زیر، چه عددی را نشان می دهد؟

(الف)  $\dots =$  یک ده تایی + ۴ تا صدتایی + ۷ تا هزارتایی + ۵ تا ده هزارتایی

(ب)  $۹۰۰۰۰۰۰ + ۶۰۰۰۰۰۰ + ۳۰۰۰۰۰ + ۴۰ + ۲ = \dots$

۳ با کارت های روبه رو دو عدد دو رقمی بدون تکرار ارقام به دست آورید که:



(الف) حاصل ضربشان بیش ترین مقدار ممکن شود.

$$\begin{array}{r} \square \square \\ \times \square \square \\ \hline \end{array}$$

(ب) حاصل ضربشان کم ترین مقدار ممکن شود.

$$\begin{array}{r} \square \square \\ \times \square \square \\ \hline \end{array}$$



جاهای خالی را با اعداد مناسب پر کنید.

..... تا یک میلیون درست شده است.

..... تا هزار ساخته شده است.

..... تا ده هزار یا از ..... هزار

درست شده است.

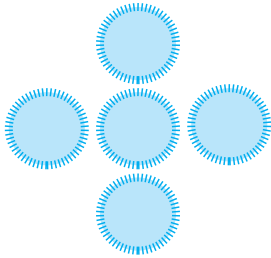
گسترده ی هر عدد را بنویسید.

$$۳۵۶۰۲۴۷ = \dots\dots\dots$$

$$۸۵۰۲۱۶۰۷ = \dots\dots\dots$$

اعداد ۱، ۲، ۳، ۴، ۵ در خانه های شکل زیر چنان قرار دهید که حاصل جمع اعداد عمودی

و افقی یکسان شود.



اعداد را مقایسه کنید.

$$۳۶۷۰ \times ۱۰۰ \quad \square \quad ۳۶۷ \times ۱۰۰۰$$

$$۵۰۰ + ۴۰ + ۸۰۰ \quad \square \quad ۵۰۰۰۴۰۰۸۰$$

نیاز به تلاش بیشتر

قابل قبول

خوب

خیلی خوب



حاصل

جاهای خالی را با واژه های مناسب پر کنید.

**(الف)** سنگ مرمر نوعی سنگ ..... است.

**(ب)** گیاهانی که با دانه تولید مثل می کنند گیاهان ..... می نامند.



۲ در کدام یک از وسایل زیر از سنگ استفاده نشده است؟



۳ در وسایل زیر، مشخص کنید انرژی الکتریکی به کدام نوع انرژی تبدیل می شود؟



نام وسیله	انرژی نورانی	انرژی حرکتی	انرژی صوتی	انرژی گرمایی
ششوار				
سماوربرقی				
اتو				
لامپ				
ماشین لباسشویی				

۴ علی می خواهد یک میخ آهنی را به آهن ربا تبدیل کند شما چه روش هایی به او پیشنهاد می کنید.



۱ \_\_\_\_\_

۲ \_\_\_\_\_



۵ تفاوت گیاهان تک لپه و دو لپه را بنویسید.

مطالعات اجتماعی

خیلی خوب  خوب  قابل قبول  نیاز به تلاش بیشتر



۱ درستی یا نادرستی عبارت های زیر را مشخص کنید.

- (الف) یکی از محل های اجتماع مردم در محله، مسجد است.  درست  نادرست
- (ب) روز ملی صنعت نفت، از مناسبت های دینی است.  درست  نادرست



۲ تفاوت زندگی در شهر و روستا را بنویسید.



۳ به عنوان یک پژوهشگر توضیح دهید که دیدن اشیای قدیمی و آثار تاریخی چه فایده ای برای ما دارد؟



۴ هر جمله را به عبارت مربوط وصل کنید. (یک مورد اضافی است)

- |  |   |
|--|---|
| • ناحیه ای که تابستان های گرم و زمستان های معتدل دارد.         | • ناحیه ای که تابستان های گرم و زمستان های معتدل و مرطوب خزری |
| • ناحیه ای که شامل کوه های بلند و دامنه های البرز و زاگرس است. | • ناحیه ای گرم و خشک داخلی                                    |
| • در این ناحیه باران فراوان می بارد.                           | • ناحیه ای معتدل و نیمه خشک کوهستانی                          |
|  | • ناحیه ای گرم و شرجی سواحل جنوب                              |



۵ کوروش که بود و چه ویژگی هایی داشت؟

خبلی خوب  
  خوب  
  قابل قبول  
  نیاز به تلاش بیشتر







### دانستنی های ریاضی

#### ریاضیات، ریاضت نیست.


معروف است که گفته می شود ریاضیات نوعی ریاضت کشیدن است، شاید برای افرادی که علاقه ای به ریاضی ندارند و به قول معروف وارد گود نشده اند، این جمله درست باشد، ولی لذتی که یک ریاضیدان از حل یک مسئله پس از ساعت ها و حتی روزها فکر کردن می برد، قابل توصیف نیست.

به گفته ی یک ریاضیدان، در هر چیز از جمله یک اثبات ریاضی، زیبایی را می توان درک کرد ولی نمی توان توضیح داد.  
نظر شما چیست؟

### بازی و ریاضی



چه کسری از مساحت شکل زیر سفید است؟



نیاز به تلاش بیشتر

قابل قبول

خوب

خیلی خوب

ارزیابی

شاخصها

میزان رضایت مندی از انجام تمرینات

میزان درک و فهم تمرینات

مسئولیت پذیری و اجرای زمان بندی برای انجام تکالیف

داشتن دقت و تمرکز لازم برای انجام تمرینات

# آدینه‌ها با گراد

۲

شماره‌ی

مهر ماه

پایه‌ی پنجم



این هفته با طعم تمشک

قرآن : صفحه‌ی ۵ الی ۹ ادامه‌ی درس ۱ جلسه‌ی سوم و چهارم  
هدیه‌های آسمان : صفحه‌ی ۱۰ الی ۱۱ درس ۱ ادامه‌ی دسته‌گلی از آسمان  
فارسی : صفحه‌ی ۸ الی ۱۳ درس ۱ تماشاخانه  
ریاضی : صفحه‌ی ۶ الی ۹ درس معرفی میلیارد  
علوم : صفحه‌ی ۱ الی ۶ درس زنگ علوم  
مطالعات اجتماعی : صفحه‌ی ۱ الی ۶ درس ۱ من با دیگران ارتباط برقرار می‌کنم

نام و نام خانوادگی :

دبستان :

کلاس :



## قرآن

۱ متن مقابل ترجمه ی کدام آیه است؟



« این قرآن به درست ترین راه و روش هدایت می کند. »

سوره ی اسرا آیه ی ۹

سوره ی اسرا آیه ی ۱

سوره ی انفال آیه ی ۱

۲ حدیث زیر از کدام معصوم (ع) است؟ .....

« قرآن را نیکو و زیبا بخوانید. »

نیاز به تلاش بیشتر

قابل قبول

خوب

خیلی خوب



## دسته های آسمان

۱ با توجه به آیه ی ۱۳۴ سوره ی آل عمران نیکو کاران چه کسانی هستند؟

۱- ..... ۲- .....

۲ پاسخ صحیح را به عبارت مناسب وصل کنید.

بلندترین سوره ی قرآن است. ❀ ❀ قرآن ❀

سوره ای که به نام پدیده ای، در طبیعت است. ❀ ❀ نمل ❀

دریایی که هیچ گاه خشک نمی شود. ❀ ❀ بقره ❀

سوره ای که به نام یک جانور است. ❀ ❀ رعد ❀

۳ هر یک از میوه یا خوراکی ها در کدام سوره آمده است؟



الرحمن

تین

نحل

نیاز به تلاش بیشتر

قابل قبول

خوب

خیلی خوب





- ۱ با توجه به متن درس «تماشاخانه» به هر یک از سؤالات زیر پاسخ دهید.
- الف) جهانی که در آن زندگی می‌کنیم سرشار از چیست؟ .....
- ب) یک راه ساده برای شناخت آفرینش چیست؟ .....
- پ) دو نمونه از آفریده‌های ساکت خدا را نام ببرید. ....
- ت) همه‌ی پدیده‌های جهان و نشانه‌های آفرینش، ما را به چه چیزی دعوت می‌کنند؟ .....

- ۲ در متن زیر چند گروه کلمه‌ی مخالف وجود دارد؟ آن‌ها را بنویسید.
- «به صدای کوتاه و بلند گوش بده تا آفریده‌های ساکت خدا را بشناسی.
- آیا تو صدای تاریک شب را می‌شنوی؟ صدای روشنایی روز را چگونه؟
- .....
- .....

- ۳ مترادف واژه‌های زیر را بنویسید.

عظیم: ..... تأمل: ..... لطیف: ..... سرشار: .....

- ۴ با حروف در هم ریخته کلمه بسازید سپس آن را در یک جمله به کار ببرید.

ظ ت ع م :

م ا ل ت :

- ۵ کدام مورد از آفریده‌های ساکت خدا نیست؟ آن را مشخص کنید.



تکان خوردن علف‌ها در نسیم

یک تکه ابر شناگر در آسمان

چهچه‌ی بلبلان روی شاخه‌های درختان



۴ واژگان به هم ریخته ی زیر را مرتب کرده و جمله بسازید.

آفرینش / است / تماشاخانه ی / عالم / شگفتی های



نیاز به تلاش بیشتر

قابل قبول

خوب

خیلی خوب



ریاضی

۱ با توجه به عدد ۸۴۵۳۰۲۶۷۸۱۵۹ به سؤالات زیر پاسخ دهید.

**(الف)** این عدد را به حروف بنویسید.

**(ب)** کم ارزش ترین عدد کدام است و در چه طبقه ای است؟

**(پ)** با ارزش ترین رقم این عدد چند است؟

**(ت)** رقم «دهگان میلیارد» و «صدگان میلیارد» کدام است؟

۲ حاصل جمع و تفریق های زیر را به دست آورید.

$$۲ \text{ میلیارد} + ۳۲ \text{ صد میلیون} \quad \text{(ب)}$$

$$= ۱۶ \text{ تا صد هزار} + ۱۸ \text{ تا صد هزار} \quad \text{(الف)}$$

$$۷۶۰ \text{ میلیون} - ۴ \text{ میلیارد} \quad \text{(ت)}$$

$$= ۹۷ \text{ میلیارد} - ۲۸۴ \text{ میلیارد} \quad \text{(پ)}$$

۳ حاصل هر یک از عملیات داده شده را محاسبه کنید.

$$\begin{array}{r} ۲۵۰۰۰ \\ \times ۴۰۰ \\ \hline \end{array}$$

$$\begin{array}{r} ۳۰۰۰۰۰۰۰ \\ + ۷۰۰۰۰ \\ \hline \end{array}$$

$$\begin{array}{r} ۸۰۴۰۰۰ \\ + ۷۳۰۰ \\ \hline \end{array}$$

$$\begin{array}{r} ۶۸۳۰۰۰ \\ - ۵۲۰۰۰ \\ \hline \end{array}$$

۴ جاهای خالی را با اعداد مناسب پر کنید.

= سه برابر ۴ تا ده میلیون

= خمس ۹ تا صد هزار

= ده برابر ۲ تا یک میلیارد





اعداد زیر را با تقریب خواسته شده بنویسید.

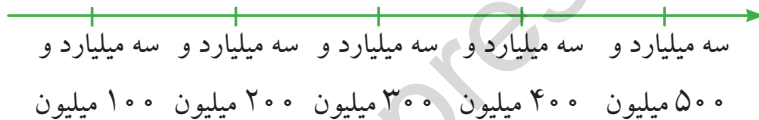
تقریب یک میلیون  $\rightarrow$  ۲۵۸۳۰۰۰۰

تقریب صد هزار  $\rightarrow$  ۶۵۲۳۰۰۰

۴۳ میلیون و ۸۵۲ هزار  $\leftarrow$  با تقریب ده هزار

محل تقریبی هر یک از عددهای زیر را روی محور نمایش دهید.

۳۴۲۲۵۰۰۰۰۰



۵۶۵۸۹۴۶۲۰۰



خیلی خوب  خوب  قابل قبول  نیاز به تلاش بیشتر



علوم

جمله های درست را با (✓) و جمله های نادرست را با (×) مشخص کنید.



- الف) مرحله ی پایانی یک کاوشگری ارائه ی نظریه است.
- ب) هر چه طول بال فرفره کمتر باشد، دیرتر به زمین می رسد.
- پ) برای اثبات درستی نظریه، آزمایش می کنیم.
- ت) دانشمندان برای یافتن پاسخ پرسش های خود کاوش می کنند.



۲ هر جمله بیانگر کدام مرحله از مراحل کاوشگری است؟

- ( الف ) چرا نمک در آب داغ زودتر حل می شود؟  
 ( ب ) به نظر من، گرما باعث زنگ زدن آهن می شود.  
 ( پ ) چای در لیوان کاغذی نسبت به لیوان پلاستیکی زودتر سرد می شود. (



۳ می خواهیم بدانیم: (در چه شرایطی میوه ها دیرتر کپک می زنند؟)

برای رسیدن به جواب مراحل کاوشگری را بنویسید.

۴ در آزمایش فرود آمدن فرفره ها، برای مشاهده ی دقیق تر چه کاری باید انجام شود؟

۵ پژوهشگری می خواهد در آزمایشی، تأثیر گیاهک بر رشد گیاه را بررسی کند.



( الف ) در این آزمایش چه چیزی را باید تغییر داد؟

( ب ) در این آزمایش چه چیزهایی را نباید تغییر داد؟

( پ ) در این آزمایش چه چیزی باید اندازه گیری شود؟

خیلی خوب    خوب    قابل قبول    نیاز به تلاش بیشتر



## مطالعات اجتماعی

۱ جاهای خالی را با کلمه های مناسب پر کنید.

( الف ) مهم ترین راه ارتباطی انسان ها با یکدیگر ..... است.

( ب ) ..... محدوده ای است که هیچ کس نباید بدون اجازه و رضایت او وارد آن شود.



۲ هنگام صحبت کردن با دیگران رعایت چه مواردی ضروری است؟

۳ برای هر کدام از موقعیت های زیر جمله ای مؤدبانه و محترمانه بنویسید.

**الف)** در زنگ ورزش سمیرا به مینا برخورد کرده و به او می گوید:

**ب)** سروش بعد از خوردن ناهار به مادر خود می گوید:

۴ یک گوینده ی خوب چه نکاتی را باید رعایت کند؟



Three horizontal pink boxes with dashed borders for writing answers.

۵ چرا نباید وارد حریم شخصی افراد شویم؟



۶ در موقعیت های زیر کدام اصل گفت و گو رعایت می شود؟

- ( **الف)** مهسا وقتی در خواستی دارد در فرصت مناسب با مادرش در میان می گذارد. )  
 ( **ب)** وقتی معلم در حال صحبت کردن است دانش آموزان با دقت به او نگاه می کنند. )  
 ( **پ)** زهرا دفترچه ی یادداشت هم کلاسی اش را پیدا کرده و سریع به او می رساند. )

خیلی خوب  
  خوب  
  قابل قبول  
  نیاز به تلاش بیشتر








### دانستنی ها

آیا می دانید که کلمه ی یوم به معنای روز ( به صورت مفرد) ۳۶۵ بار به تعداد روزهای سال شمسی در قرآن به کار رفته است.



امام صادق (ع) می فرماید:

همان گونه که نور خورشید، آلودگی ها (میکروب ها) را می کشد. اخلاق خوب نیز خطاهای انسان را از بین می برد.



نیاز به تلاش بیشتر

قابل قبول

خوب

خیلی خوب

ارزیابی

شاخص ها

میزان رضایت مندی از انجام تمرینات

میزان درک و فهم تمرینات

مسئولیت پذیری و اجرای زمان بندی برای انجام تکالیف

داشتن دقت و تمرکز لازم برای انجام تمرینات